

100 學年四技二專第四次聯合模擬考試  
設計群 專業科目 (二) 參考解答

100-4-07-5

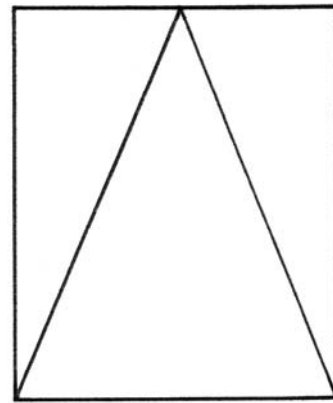
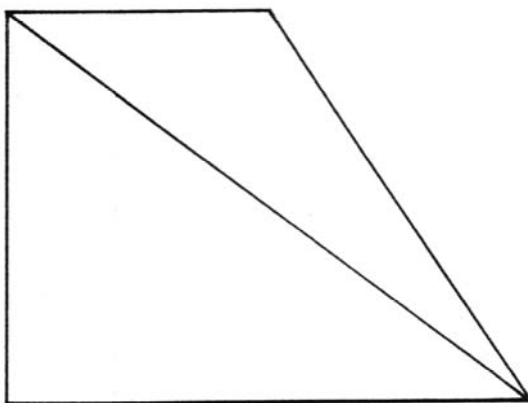
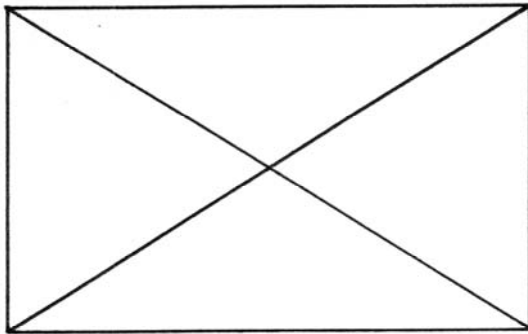
第一題：設計圖法

試題 A：繪製物件之正確三視圖(25 分)

評分標準：

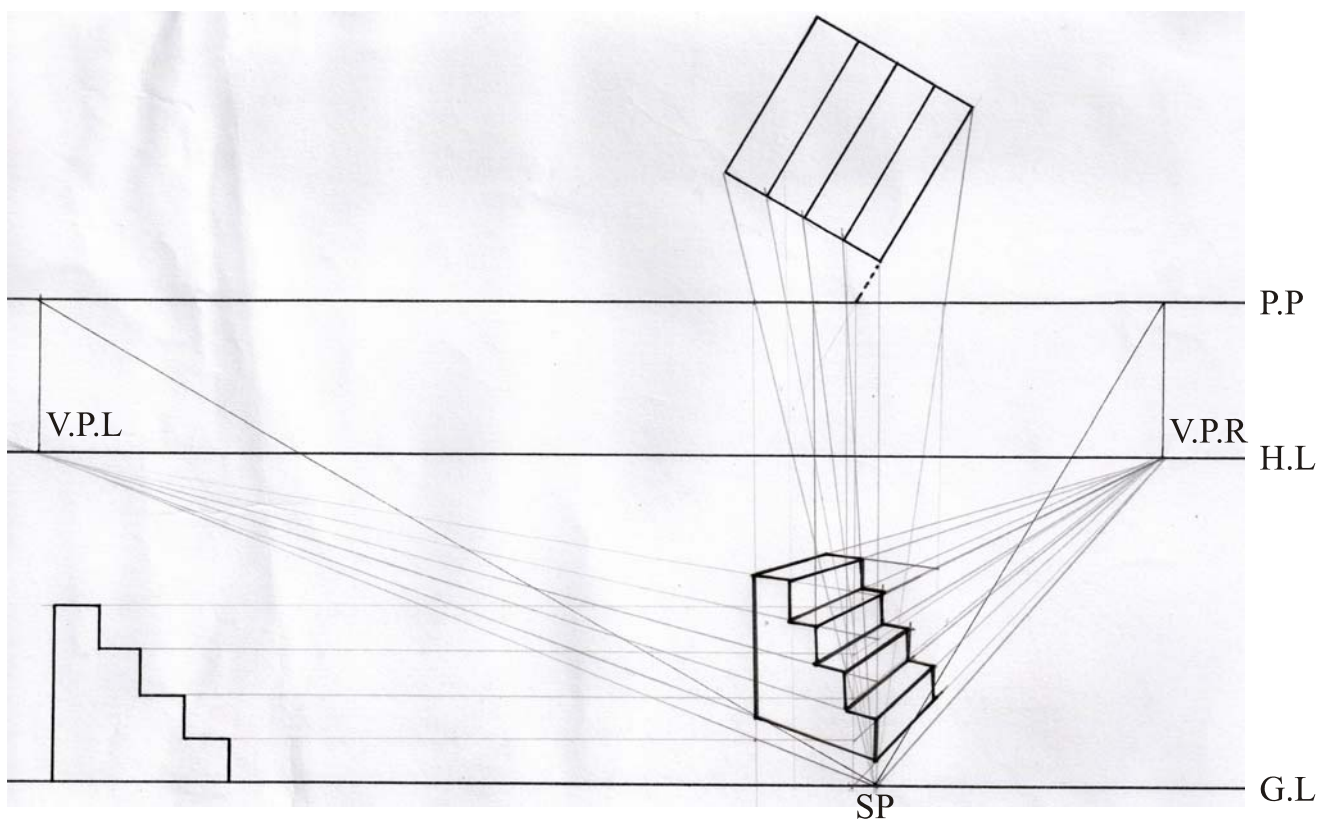
- (1) 視圖精確性(含完成度)25 分
- (2) 當答案未符合正確性或未完成者，以 0 分計
- (3) 不符 CNS 規定，每個地方扣 3 分，扣至 25 分止
- (4) 未依規定繪製者，不予計分

參考解答：



**第一題：設計圖法****試題 B：請依附圖以足線法繪製透視圖(25 分)****評分標準：**

- (1) 透視圖精確性(含完成度)25 分
- (2) 當答案未符合正確性或未完成者，以 0 分計
- (3) 完成者而部份不正確，每個地方扣 3 分，扣到至 25 分止
- (4) 未依規定繪製者，不予計分

**參考解答：**

## 第二題：台灣意象圖案設計(50 分)

### 評分標準：

- (1) 繪製四種不同樣式之草圖發想(鉛筆速繪)10 分，每個 2.5 分
- (2) 所挑選之較佳案作最終彩色精描圖 40 分，其中文字設計 10 分(含編排)、創意 15 分、構圖用色表現技法 15 分
- (3) 未繪製四種不同樣式之草圖發想，每一種扣 2.5 分
- (4) 未依規定作答者，不予計分

### 參考解答：

