

第四章 東南亞（一）

課前活動：東南亞國家國旗猜猜香~



泰



新(最小)



柬



印尼(最大.人口多)



汶



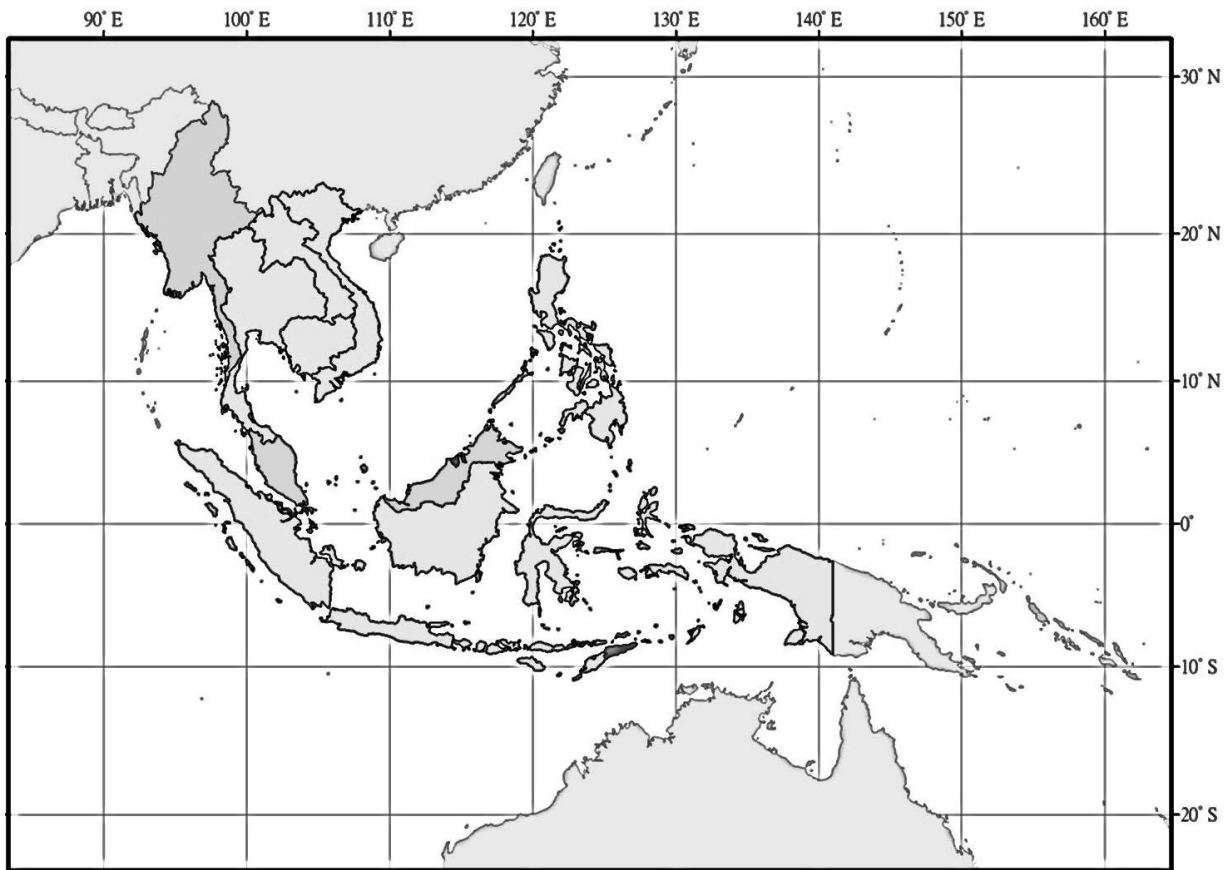
菲



馬

壹、 複雜的自然環境

◎領土主要在南半球的國家為？



一、 範圍

- 東南亞又稱「南洋」、「東印度」。
- 東南亞依自然環境及文化特徵的差異可區分為「中南半島」、「南洋群島」
- 位於北回歸線至南緯 10 度之間，多屬濕熱氣候。
- 位於板塊接觸帶(歐亞、印澳、太平洋、菲律賓海)
- 為東亞各國進出印度洋的門戶，是東西方文化的接觸地帶。

二、 破碎的地形

<p>中南半島</p>	<ol style="list-style-type: none"> 陸塊較完整，為中國的橫斷山脈向南延伸，沉水作用入海而形成半島 → 南北走向、山河相間，為縱谷地形。 主要山脈：怒山—他念他翁山—馬來半島 地勢北高南低：N 山地 — M 開闊的河谷 — S 三角洲平原 影響： <ol style="list-style-type: none"> 地形受山脈、河川切割，缺乏統一的大國、文化多元 交通：南北交通較容易(河谷為天然孔道、山脈成為國界) 種族多來自中國南方少數民族 馬來半島為過度地帶，是早期印度文化東擴的孔道 河口三角洲為精華區、人口稠密
<p>南洋群島</p>	<ol style="list-style-type: none"> 破碎的島群，因沉水作用、板塊擠壓所形成，地形崎嶇。 婆羅洲(加里曼丹)、蘇拉威西等島，原本與中南半島相連，因相對陸沉海升而形成的大陸島。 島弧：菲律賓島弧、南洋群島(蘇—爪—小巽他—帝汶) 河短流急，平原分布於沿海(沿海平原為精華區，人口集中) 多火山、地震 → 火山灰土(沃)，利農業

※中南半島五大河川

中南半島五大河川 (由西向東分布)							
中國境內	邁立開江	恩梅開江	怒江	怒山	x	瀾滄江	元江
中南半島	伊洛瓦底江 (緬甸，仰光)		薩爾溫江	他念 他翁山	昭披耶河 (泰國，曼谷)	湄公河 (三國三市)	紅河 (越南，河內)
河川水系	印度洋水系				太平洋水系		

三、 濕熱的氣候

- 位置：赤道兩側
- 氣候特色：**全年高溫、年日溫差小**
- 氣候分類：熱帶雨林氣候、熱帶季風氣候

	熱帶季風氣候	熱帶雨林氣候
分布	中南半島、菲律賓群島	南洋群島、馬來半島
特徵	1. 乾濕季分明 (例外： <u>冬雨區</u>) 2. 年溫差較南洋群島大 3. 熱帶氣旋起源地 4. <u>貿易風</u> (船棹風)、季風雨林	1. <u>年</u> 、 <u>日</u> 溫差小 2. 緯度低，但不酷熱 (∴海洋環繞) 3. 降水豐沛 (<u>對流雨</u> 、地形雨) 4. 爪哇島配合沖積土、火山土，利農業
氣候圖	<div style="display: flex; justify-content: space-around;"> <div style="text-align: center;"> <p>馬尼拉市</p> </div> <div style="text-align: center;"> <p>曼谷</p> </div> </div>	<div style="display: flex; justify-content: space-around;"> <div style="text-align: center;"> <p>斯里百加灣市</p> </div> <div style="text-align: center;"> <p>新加坡</p> </div> </div>

→東南亞為世界最重要的生物多樣性地區 (季風雨林、熱帶雨林)

→**熱帶作物**與稻米栽培具重要地位

→自然災害：**火山爆發**、地震、颱風等

→生態危機

- 大規模開採林、礦資源，轉作熱帶栽培業
- 山坡地開闢農田，土地過度開發

華萊士線 (Wallace Line)

華勒斯線是生物地理學中，區分東洋區和澳大拉西亞區的分界線。1854 年到 1862 年英國動物地理學者阿爾弗雷德·羅素·華勒斯在馬來群島研究島嶼上的動物時，注意到婆羅洲與蘇拉威西島、峇里島和龍目島之間，似乎有一條隱形的界線將兩邊的生物分開；界線以西接近東南亞的生物相，界線以東則接近新幾內亞的生物相。



貳、多元的文化景觀

一、文化多元的原因

- 海陸交會位置，印度洋與太平洋航運要衝→中國、印度文明影響
- 天然資源豐富（礦產、香料等）吸引外來移民
- 地形破碎、叢林阻隔，族群不易融合→族群多元（P.59 BOX）

二、複雜的族群組成

→陸路遷徙：中國西南各地

→海路遷徙：華人海外移民、阿拉伯人、印度人以及西方勢力

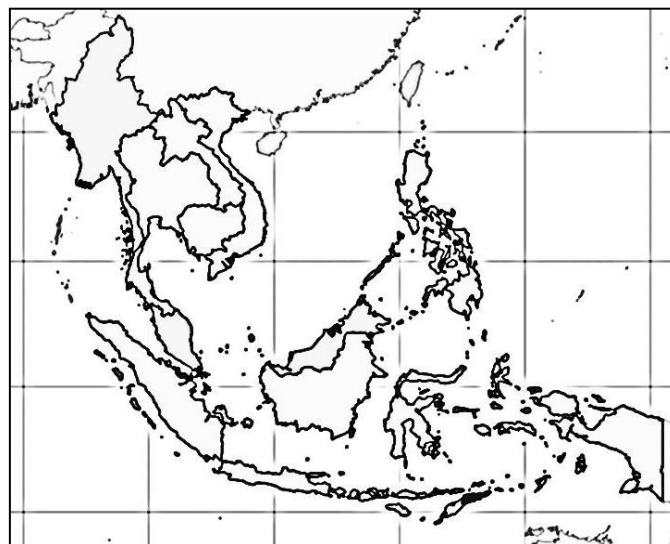
	中南半島	南洋群島
阻隔因素	南北向縱谷地形的限制	島嶼間海洋阻隔 島嶼內地形、叢林阻隔
族群分布	<ol style="list-style-type: none"> 1. 越南—越族 86% 2. 泰國—泰族 75% 3. 寮國—老族 55% 4. 緬甸—緬族 68% 5. 柬埔寨—吉蔑族 90% 6. 華人 	<ol style="list-style-type: none"> 1. 馬來人 2. 印度人 3. 華人 <div style="border: 1px dashed blue; padding: 10px; margin-top: 10px;"> <p>峇峇與娘惹</p> <p>峇峇與娘惹，指的是馬來西亞的土生華人。中國東南沿海移民至東南亞時，多娶當地女子為妻，生下的孩子男的叫「峇峇」、女的叫「娘惹」，在文化上，保有華人文化傳統，又混和了當地馬來人的文化，形成特殊的融合文化。著名點心娘惹糕即為兩種文化碰撞下的產物。</p> </div>

三、多元的宗教信仰

※中南半島

- 山區：原始宗教
- 主要宗教：
 - 小乘佛教(南傳佛教)
 - 緬、泰、寮、柬
 - 大乘佛教(北傳佛教)

越南



※南洋群島

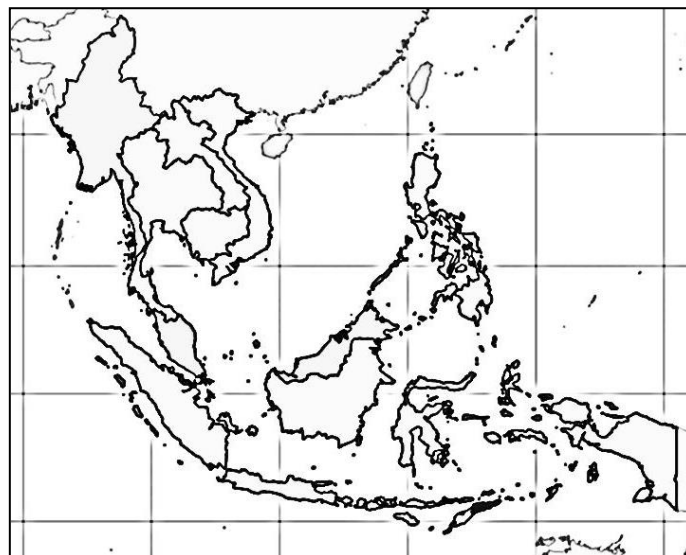
- 伊斯蘭教：
 - 印尼、馬來西亞
 - 汶萊、菲律賓南
- 天主教：
 - 菲律賓、東帝汶
- 印度教：峇里島

宗教	分布與影響
印度教 (500 BC)	1. 柬埔寨 <u>吳哥窟(12thc)</u> ，原為印度教，後為佛教寺廟。 2. 印尼 <u>峇里島</u> ，寺廟、舞蹈及雕刻接受印度教影響。
佛教 (300 BC)	1. 中南半島的緬、泰、寮、柬為小乘佛教。 2. 泰國憲法規定國王必須是佛教徒 3. 印尼爪哇島的 <u>婆羅浮屠</u> ，為世界最大的佛寺古蹟(大乘佛教) 4. 越南、新加坡(<u>大乘佛教</u>)。
儒家文化	明、清大量的華人移民，使東南亞地區受中國文化影響，例如：越南、新加坡
伊斯蘭教 (13 世紀)	1. 分布： <u>印、馬、汶</u> 、菲律賓南部(民答那峨)、泰國南部(馬來半島北部) 2. 阿拉伯商人於 <u>13thc</u> 引入伊斯蘭教 3. <u>印尼</u> 人近 90%為穆斯林，是全球伊斯蘭人口最多的國家。(馬來西亞約 50%，汶萊約 60%)
天主教	1. 分布：菲律賓、東帝汶、越南 2. 菲律賓受 <u>西班牙</u> 影響、東帝汶受 <u>葡萄牙</u> 影響、越南受 <u>法國</u> 影響
基督教	曾被英、荷統治的地區

四、 西方殖民的影響

※中南半島

- 英國- 緬甸
- 法國- 越南、寮國、
柬埔寨
- 暹羅國- 泰國



※南洋群島

- 荷蘭- 印尼
- 英國- 馬來西亞、
新加坡
- 葡萄牙- 東帝汶
- 西、美- 菲律賓

(一) 宗教 (基督教、天主教)

(二) 經濟

1. 經濟體系趨向二元化

傳統經濟體系：以當地勞力、技術，生產國內所需的商品

依賴式經濟：西方國家的殖民統治，帶來資本主義經濟。

※西方投入資金及技術，利用中國或印度的勞工，發展熱帶栽培業與採礦業，產品銷售至國際市場，形成的殖民地式經濟，存在不平等關係

2. 熱帶栽培業(大規模、專業化、企業化、商品化、科學化)

- 大量資金、勞力投入
- 單一經濟作物
- 作物或加工品多用於出口 (世界重要熱帶經濟作物、工業原料的供應地)

→ 土地集中少數大地主 → 貧富差距擴大

(三) 社會

1. 資本主義加重土地兼併、勞資對立。
2. 商品化農業，使金融業者、商人增加，職業結構複雜化。
3. 港埠型都市、首要型都市，都市化快速衍生出許多都市問題。
4. 區域發展不均 → 沿海與內陸的差距擴大
5. 外來勞工的引入 → 族群問題

(四) 政治

1. 激發民族意識 → 獨立運動
2. 受西方思想薰陶的知識份子，成為國家獨立運動的骨幹

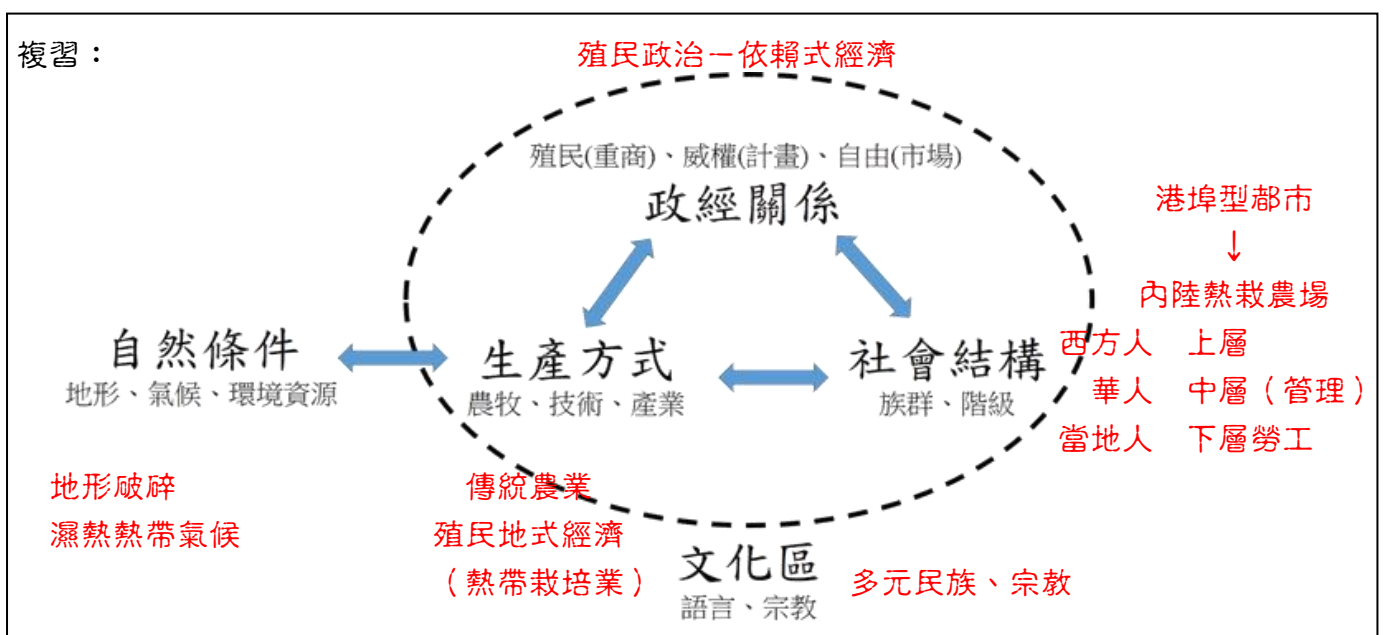
五、 華人移民

1. 東南亞為全球華僑人數最多的地區。
2. 拉力：地理位置接近、豐富自然資源、與閩粵地區氣候相近、西方殖民需要勞力

	華人人數 (萬人)	占該國人口%	占海外華人%
印	795	3	20.1
泰	739	14	18.7
馬	648	24	16.4
新	279	77	7.1


3. 發展：
 1. 在殖民時期初期，華人從事開礦、墾荒等勞力密集型的工作，從而累積財富，進而轉投資其他生產事業或商業活動。
 2. 殖民時期後期，成為殖民者和當地居民的中間商，掌握了當地的批發和零售業。
 3. 獨立之後，配合當地經濟發展，少數華人和當地的政治勢力結合，發展成對當地經濟有相當影響力的富商。
 4. 西方殖民政府為鞏固利益，給當地華人較高的地位，使土著從屬其下，因而埋下日後馬來西亞、印尼排華事件的導火線。(除新加坡外，華人的政治地位備受壓抑)

4. 分布：
 1. 通常居住在都市地區。如新加坡、馬來西亞的檳城
 2. 就總人數而言，以印尼最多，但比例低
 3. 就比例來說，以新加坡最高，是唯一華人占優勢的國



隨堂小試

- 去年夏天，小華前往歐洲遊學，途中認識一位同行者。在閒聊中，小華得知這位同行者的祖籍為福建，曾祖父因家鄉饑荒而移民海外，並被迫取了西班牙姓名。他的父親在求學期間適逢政治變遷，學習了新統治者使用的英文，同時也學會了當地住民的語言。他們因為注重傳統根本，所以幾代以來還會說華語，並保留中文姓氏。請問這位同行者應來自何處？(A)印尼 (B)新加坡 (C)菲律賓 (D)馬來西亞 C
- 在機動船使用之前，中國沿海與南洋（東南亞）之間貿易的船隻必須根據所謂的「船棹風」來決定往返的時間。這種「船棹風」是指哪一種風？
(A)信風 (B)盛行西風 (C)季風 (D)海陸風。C
- 2001年亞太經合會（APEC）在上海舉行，召開非正式領袖高峰會議，討論議題之一為反恐怖活動，主辦者曾擔心有些與會國可能因宗教信仰，而無法達成共識。請問前述所指的與會國是指：(A)澳洲、日本 (B)新加坡、越南 (C)馬來西亞、印尼 (D)泰國、緬甸 C
- 照片中為王先生去年出外旅遊時所拍攝的某地風光。請判斷該照片所呈現的景觀最可能出現在哪一個地區？
(A)美國東南岸 (B)西班牙庇里牛斯山區
(C)菲律賓呂宋島 (D)大洋洲社會群島。 C
- 一位老人敘述自己的家族歷史時，說道：「我的祖先來自唐山，到這開墾幾年後，沒有辦法回唐山娶親，只好就地與『番婆』結婚，可是家裡仍然說唐山話、讀漢文。在英國人統治時，日子過得還好。日本人一來，財產可就受到很多損失。後來日本人走了，我們也建立了一個獨立的國家，可是我總想回唐山去掃墓祭祖。」這位老人應當身處何地？
(A)馬來西亞 (B)菲律賓 (C)臺灣 (D)香港 A
- 南洋群島婆羅洲的原住民，傳統以「長屋」為住宅。「長屋」的哪一項特徵和當地濕熱的氣候環境最有關係？(A)形狀成長方形 (B)高腳屋型態 (C)以木材搭建 (D)屋頂覆蓋茅草 B
- 一般而言，熱帶雨林區因高溫高濕，蚊蟲孳生，土壤養分淋失，以致農業不彰，人口稀少。然而，同屬熱帶雨林區的印尼爪哇島，卻是東南亞主要的水稻產地，人口密集。爪哇島農業比其他熱帶雨林區發達，和下列哪一項因素關係最密切？
(A)在荷蘭殖民的時代，聯合東印度公司引進耕牛開闢許多農地
(B)地處重要的海運中繼站，島民藉糧食作物交易可獲得優渥利潤
(C)覆蓋厚層的火山灰，成為各種農作物生長時所需的肥沃土壤
(D)氣候終年高溫多雨，提供各種農作物生長所需的熱量和水分 C
- 東南亞國協（東協）擁有十個會員國，為亞太經濟板塊重要的一部分。請問：東協最早的五個會員國—泰國、馬來西亞、菲律賓、印尼和新加坡之共同特徵為何？
(A)均曾為西方國家的殖民地 (B)族群宗教文化複雜多元的國家
(C)農、礦產資源豐富的國家 (D)都市體系均呈首要型都市型態 B



◎十九世紀時，東南亞大部分地區曾經是西歐列強的殖民地。東南亞的（甲國）位於英國殖民地和（乙國）殖民地的緩衝帶，甲國因此得以維持獨立。目前甲國的農產品外銷，以（丙）這種現金作物為主。請問：

9. （甲國）應為下列哪一國家？ (A)泰國 (B)印尼 (C)菲律賓 (D)馬來西亞

10. （乙國）是指下列哪一國家？ (A)法國 (B)德國 (C)西班牙 (D)葡萄牙

11. (丙)是指下列何種作物？ (A)香蕉 (B)咖啡 (C)橡膠 (D)棉花

(1)A;(2)A;(3)C

◎1990 年代始，印尼經濟快速發展，但環境問題隨之凸顯，其中又以空氣汙染最為嚴重。自 90 年代末期迄今，空氣汙染問題不僅影響航海與航空運輸，也損害居民的健康。此外，煙霾常隨著盛行風吹往北方，致使鄰近國家亦深受空氣汙染之苦。請問：

12. 下列各項產業活動中，何者與印尼近年來飽受空氣汙染所苦一事的關連性最小？

(A)採挖錫礦 (B)擴大耕地 (C)種植油棕 (D)砍伐森林

13.)印尼（特別是蘇門答臘島）的空氣汙染災害，在下列哪些月份對馬來西亞和新加坡的影響最大？ (A)4~5 月 (B)6~9 月 (C)10~11 月 (D)12 月至翌年 3 月

14. 當蘇門答臘發生嚴重空氣汙染時，通過下列哪個國際海峽的船隻，必須有導航設備才可航行？

(A)巴士海峽 (B)巽他海峽 (C)對馬海峽 (D)麻六甲海峽

(1)A;(2)B;(3)D

◎人類經濟活動對生態環境的影響已不限於地區性，而是牽一髮而動全身的全球性問題。圖中是幾種全球性生態環境問題的分布圖。請問：艾尼紐（聖嬰）現象對哪個東南亞國協會員國的氣候影響最為顯著？

